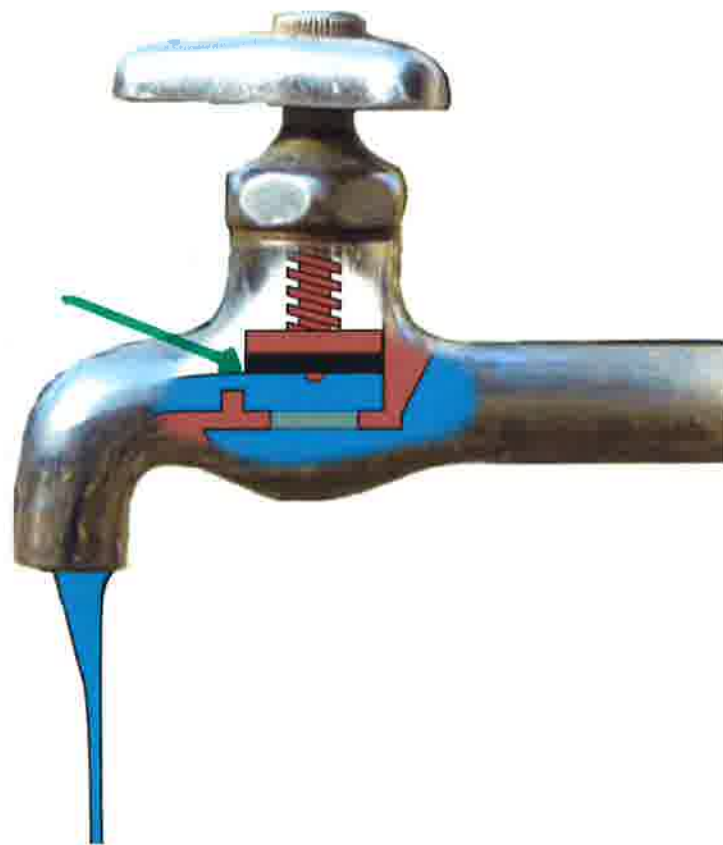


PREGUNTA 1: Señale con una flecha cual de los elementos que aparecen en este esquema es la zapata del grifo.




PREGUNTA 2. En esta imagen de un grifo, señale con una flecha donde se instalaría un economizador o aireador de agua como el del modelo.



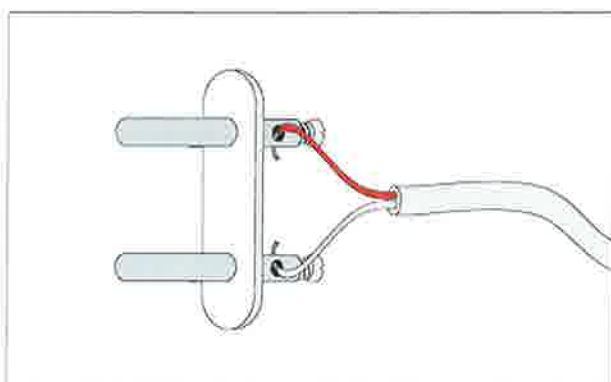
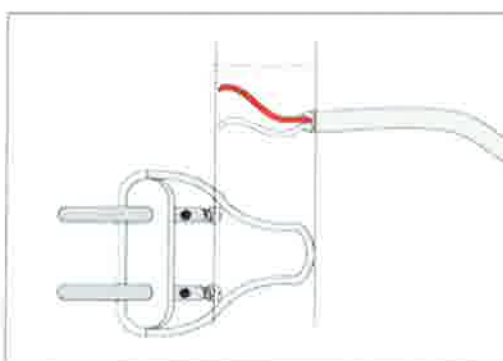
PREGUNTA 3. Señale con una flecha cuál de los tres cables es la puesta o toma de tierra.



PREGUNTA 4. Disponiendo de un cable eléctrico como este:



Necesitamos hacer una instalación como la siguiente:



¿Cual es el color de los cables que podemos utilizar para que funcione la instalación correctamente?. Marque con una X la respuesta correcta:

RESPUESTA	
<input checked="" type="checkbox"/>	MARRÓN Y AZUL
<input checked="" type="checkbox"/>	AZUL Y MARRÓN
<input type="checkbox"/>	AZUL Y AMARILLO
<input type="checkbox"/>	MARRÓN Y AMARILLO
<input type="checkbox"/>	CUALQUIERA DE LOS CABLES

PREGUNTA 5. Rodee con un círculo cual de los siguientes cables utilizaría para conectar cualquier ordenador a una red informática



PREGUNTA 6. Rodee con un círculo la herramienta que utilizaría para cortar/podar setos o arbustos solitarios.




PREGUNTA 7. Rodee con un círculo la herramienta que es un formón o escoplo para madera.



PREGUNTA 8. En esta imagen de un cuadro eléctrico señale con una flecha cual es el interruptor de control de potencia.



PREGUNTA 9. Rodee con un círculo la herramienta que es un pelacables, pelahilos, desaislante o desnudador de cables y que se utilizaría para quitar la funda protectora de los conductores aislados.



PREGUNTA 10. Rodee con un círculo el pictograma de peligro que representa "PELIGRO PARA EL MEDIO AMBIENTE":

